

KONKURS HISTORYCZNY - 2025

"Powstanie styczniowe przykładem patriotycznej postawy Polaków"

Liczba uzyskanych punktów:	Podpisy nauczyciela sprawdzającego:
----------------------------	--

Dane ucznia (wpisuje uczestnik konkursu)

(imię i nazwisko, nazwa szkoły)

Czas pracy 60 minut

Liczba punktów do uzyskania: **28**

Informacje:

1. Przy każdym zadaniu podana jest liczba punktów możliwych do uzyskania.
2. Zadania możesz rozwiązywać w dowolnej kolejności.
3. Nie używaj korektora. Gdy popełnisz błąd, przekreśl odpowiedź i napisz poprawną.

Życzymy powodzenia!

Komisja Konkursu Historycznego

Zadanie I Napisz datę dzienną rozpoczęcia i zakończenia powstania. (przyjmij zakończenie powstania śmierć ostatniego dyktatora) (0-1p.)

.....

Zadanie II. Napisz imię i nazwisko jednego z polskich przywódców powstania styczniowego, który uciekł w przebraniu kobiecym z więzienia w Moskwie. (0-1p.)

.....





Zadanie III. Podaj nazwę miejscowości, gdzie mieścił się arsenał wojsk rosyjskich, który miał być zdobyty przez Polaków w pierwszych dniach powstania styczniowego. (0-1p.)

.....





Zadanie IV. Zaznacz zdanie prawdziwe wstawiając literkę P. (0-1p.)

Margrabia Wielopolski był jednym z dyktatorów powstania styczniowego.	
Aleksander Wielopolski i car Aleksander II uczestniczyli razem w „Wojnie krymskiej”.	
Aleksander Wielopolski był twórcą reform, które przyspieszyły wybuch powstania styczniowego.	

Zadanie V. Która ilustracja przedstawia jednego z najważniejszych przywódców organizacji „Czerwonych” w przeddzień wybuchu powstania styczniowego? Napisz pod zdjęciem jego imię i nazwisko. (0-2p.)

Zadanie VI. Który wizerunek godła symbolizował okres po upadku powstania, gdy władze rosyjskie zaprzestały stosowania nazwy Królestwo Polskie, zastępując ją określeniem *Przywislinskij kraj*? Wstaw znak X pod wybranym godłem (0-1p.)

			
A	B	C	D

Zadanie VII. Na podstawie ilustracji i wiedzy własnej rozstrzygnij, czy zdania zamieszczone w tabeli są P-prawdziwe, czy F- fałszywe. (zaznacz odpowiedzi krzyżykiem) **(0-2p.)**



1.	Mocarstwa europejskie w zółwym tempie niosą pomoc walczącym w powstaniu Polakom.	P	F
2.	Francja i inne państwa w swojej pomocy ograniczają się tylko do protestów wyrażonych w notach dyplomatycznych.	P	F
3.	Rysunek jest pochwałą dyplomacji mocarstw europejskich za ich stosunek do powstania.	P	F

Litografia zamieszczona w czasopiśmie francuskim Le Charivari w okresie powstania styczniowego [w:] Powstanie styczniowe w zbiorach Muzeum Wojska Polskiego, Warszawa 1966, s. 199.

Zadanie VIII. Obraz przedstawia wygląd niekompletnej pieczęci Rządu Narodowego doby powstania styczniowego, brakuje dolnego napisu. Jakie słowa zostały usunięte z przedstawionej pieczęci? (Wpisz te słowa po prawej stronie ilustracji) **(0-2p.)**



Zadanie IX. Ponumeruj wydarzenia chronologicznie, od najwcześniejszego (1) do najpóźniejszego (5). **(0-2p.)**

- Wybuch Powstania Styczniowego
- Pogrzeb pięciu poległych podczas manifestacji rocznicowej
- Ogłoszenie tzw. branki do wojska rosyjskiego
- Wprowadzenie stanu wojennego w Królestwie
- Bitwa pod Węgrowem

Zadanie X. Dopasuj do poniższych obrazów przedstawiających najważniejszych przywódców Europy czasów powstania styczniowego imiona i nazwiska, rodzaj sprawowanej władzy w państwie oraz kraj z którego pochodzą. (0-4p.)

Aleksander II Romanow, Otto von Bismarck, Napoleon III Bonaparte, Franciszek Józef I Habsburg, cesarz, car, cesarz, kanclerz, Prusy, Francja, Rosja, Austria;

				
Imię i nazwisko				
Rodzaj sprawowanej władzy				
Kraj pochodzenia				

Zadanie XI. Na podstawie poniższego tekstu źródłowego odpowiedz na pytania.

O urzędzeniu włościan w Królestwie Polskim

Art. 1. Grunta zostają w posiadaniu włościan (to jest osady włościańskiej) tak w dobrach prywatnych i najmiłościwiej rozdarowanych (majorackich), jako też w dobrach instytucyjnych (różnych zakładów), i rządowych, przechodzą na zupełną własność włościan, w posiadaniu tych gruntów będących (...).

Art.2. (...) włościanie uwolnieni raz na zawsze zostają od wszelkich bez wyłączenia powinności, jakimi na korzyść dziedziców obłożeni byli, jako to od: pańszczyzny, od okupu w gotowiźnie, od osepów, od czynszu, danin itp. (...)

[w:] T. Maresz, K. Juszczak, Historia w źródłach nie tylko pisanych, Czasy nowożytne, Toruń 2004, s.131.

A. Podaj rok nadania i nadawcę dokumentu: (0-2p.)

Rok: Nadawca:

B. Wyjaśnij, dlaczego dokument został ogłoszony w owym czasie: (0-1p.)

.....

.....

.....

Zadanie XII. Podaj 4 przyczyny upadku powstania styczniowego. (0-3p.)

.....

.....

.....

.....

Zadanie XIII. Zapoznaj się z ilustracją i odpowiedz na pytania.



A. Częścią jakiego budynku była brama przedstawiona na ilustracji? (0-1p.)

.....

B. Dlaczego ukazana brama nosi nazwę "Brama Straceń"? (0-1p.)

.....

.....

.....

Zadanie XIV. Na podstawie mapy:

A. Zaznacz miejsce śmierci księdza Stanisława Brzóska (miasto podkreśl podwójną linią) (0-1p.)

B. Zaznacz kołem na mapie rejon Litwy, następnie napisz jak nazywał się najważniejszy dowódca, który prowadził tam działania partyzanckie oraz został Komisarzem Rządu Narodowego na Litwie. (0-2p.)

Nazwisko dowódcy

